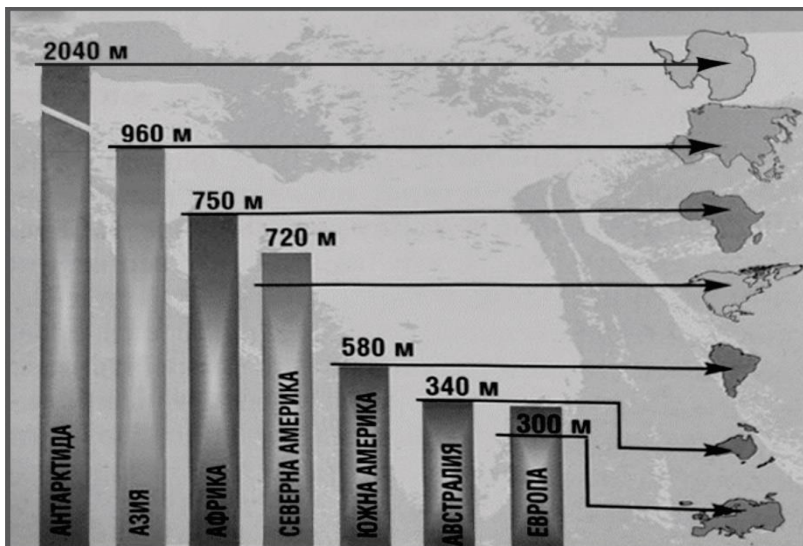




Примерни задачи
за областен кръг на олимпиада по география и икономика
Състезателна група 6. клас

1. Информация за кое твърдение се съдържа във фигурата?



- А) Най-високата планина е разположена в Азия.
- Б) По средна надморска височина Южна Америка се нарежда на пето място.
- В) По площ Европа се нарежда на шесто място.
- Г) По брой на населението континентът Африка се нарежда на второ място.

2. Отбележете за кой географски обект се отнася описанието.

Архипелаг в южната част на Южна Америка, отделен от континента чрез Магелановия проток. Името му е дадено от първите испански мореплаватели, които плавали край островите и често виждали големи огньове, палени от местните жители.

- А) Галапагос
- Б) Маражо
- В) Тринидад
- Г) Огнена земя

3. Разгледайте изображението и запишете за кой процес се отнася.

- А) формиране на природните зони
- Б) формиране на съвременните континенти и океани
- В) формиране на климатичните пояси
- Г) формиране на границата на планинските ледници





4. Кое е вярното твърдение за климата на Северна и Южна Америка?

- А) Атлантическият океан оказва най-силно влияние върху климата, спрямо другите водни басейни.
- Б) Топлите океански течения по западното крайбрежие са причина за образуването на пустини.
- В) Пасатите са ветрове, които се проявяват в екваториалния климатичен пояс.
- Г) На територията на двата континента се простират всички климатични пояси.

5. Като използвате картата и текста, разпознайте всяко езеро от групата на Големите северноамерикански езера. Срещу цифровия код запишете неговото име.



Те са най-голямата група от сладководни езера на Земята. Водите им са свързани помежду си с реки и протоци.

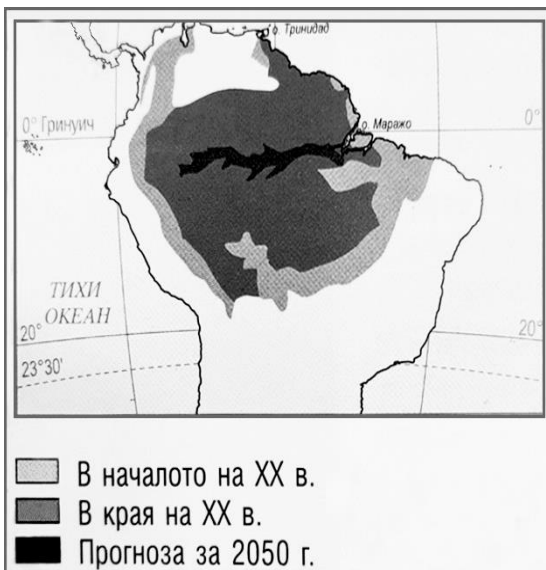
Най-голямо е Горното езеро, а най-малко – Онтарио.

Езерото Мичиган е разположено южно от Горното езеро и се свързва с езерото Хюрьн.

На югоизток от Хюрьн се намира Ери, което е предпоследно по площ.

- 1..... 3.....
2..... 4..... 5.....

6. Прочетете картата и решете задачите.



А) Запишете проблемът, който е илюстриран.

.....
.....

Б) Запишете природната зона, която е най-сериозно засегната.

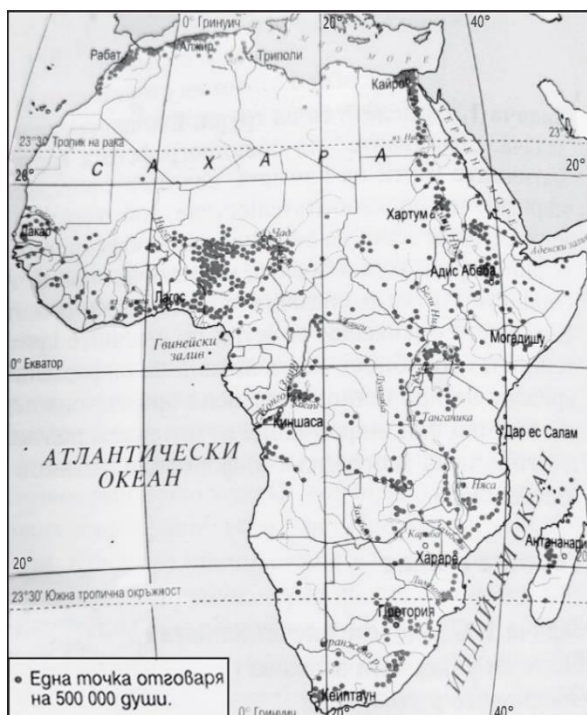
.....
.....



7. Кои от природните зони са разпространени в континентите Африка, Южна Америка и Северна Америка?

- А) тундра; лесостепи, степи и прерии; широколистни и смесени гори
- Б) иглолистни гори; лесотундра; екваториални гори
- В) пампа; арктични пустини; субтропични, тропични и субекваториални гори
- Г) твърдолистни гори и храсти; пустини и полупустини; савани

8. Прочете картите на Африка и Южна Америка. Формулирайте общ извод относно разпределението на населението на двата континента.



.....

.....

.....

9. Според географското положение страните на Южна Америка се разграничават на вътрешноконтинентални и страни с излаз на океан. Допълнете пропуснатото в таблицата, като поставите цифровите кодове в съответната група.

1. Бразилия; 2. Парагвай; 3. Боливия; 4. Чили; 5. Венесуела; 6. Перу

Вътрешноконтинентални страни	Страни с излаз на океан
.....

10. Изберете и подчертайте думата така, че да се получи вярно твърдение за населението на Северна Америка.

- А) По брой на населението и средна гъстота континентът заема *трето/четвърто* място сред останалите континенти.



- Б) Местното население е представено от индианци и *ескимоси/бушмени*.
В) Голяма част от индианците обитават резервати, които са разположени в *източната/западната* част на континента.
Г) Най-разпространената религия в континента е *християнството/ислямът*.

11. Кое от изображенията НЕ се отнася за преселеното население на Северна Америка?



12. Запишете „ДА“ срещу верните и „НЕ“ срещу грешните твърдения за стопанството на Северна Америка.

№	Твърдение	ДА/НЕ
1.	Създава близо 30% от световната промишлена и земеделска продукция.	
2.	Икономическото развитие на страните от континента е неравномерно.	
3.	В западната част на континента се отглеждат предимно зърнени култури.	
4.	Огромните запаси от дървесина в тундрата са основа за развитието на дърводобива и дървопреработката.	
5.	Неравномерното икономическо развитие на страните се отразява върху доходите на населението им.	

13. Вие сте турист и пътувате по туристическия маршрут „Из двете Америки – от север на юг“. В коя група цифровите кодове на туристическите обекти са подредени в правилната последователност?

- А) 2, 3, 4, 1
Б) 1, 2, 3, 4
В) 3, 4, 1, 2
Г) 4, 3, 2, 1



14. Запишете името на изобразеното неблагоприятно природно явление, което предизвиква големи щети в континента Северна Америка.



.....

15. Изпълнете задачите.

15.1. Подредете обектите от Южна Америка на правилните места в таблицата.

1. Бразилска планинска земя; 2. Гвианска планинска земя; 3. Патагония; 4. Лаплатска низина; 5. Амазония; 6. Низина на р. Ориноко; 7. Атакама; 8. Анди

Част от Южна Америка	Обекти
Западна
Средна
Източна



15.2. Нанесете цифровите кодове на обектите върху картата. Допълнете пропуснатото в легендата на картата. Запишете подходящо заглавие.

Заглавие

